

రాజీవ్ విద్యామిషన్, ఆంధ్రప్రదేశ్
మాదిరి మదింపు పత్రం
యూనిట్ పరీక్ష

సమయం : 50 ని॥

విద్యార్థి పేరు :


విషయం : గణితం

రోల్ నెంబర్ :





తరగతి : 3వ తరగతి

విద్యాప్రమాణం	సమస్య సాధన			కార్యకారణ విచారణ / నిరూపణ			వ్యక్తీకరణ	సంధానం	ప్రాతినిధ్యపరచడం	మొత్తంపై గ్రేడు
ప్రశ్న. నెం.	3	4	6	7	2	8	1	9	5	
ప్రశ్న గ్రేడు										
విద్యాప్రమాణం గ్రేడు										

I మౌఖికం

- 365 లో వందల స్థానంలో ఉన్న అంకె ఏది?
-  ఈ ఆకృతి రావాలంటే ఎన్ని అగ్గిపుల్లలు ఉపయోగించాలి?

II రాత లెక్కలు

- 150 తర్వాత వెంటనే వచ్చు రెండు సంఖ్యలు రాయండి.
- 499 కి “1” కలిపిన వచ్చును.
- 518 ని విస్తరణ రూపంలో రాయండి.
-  అనే ఆకారంలో  ఎన్ని ఉన్నాయి?
- 729 లో 2 యొక్క స్థాన విలువ ఎంత?
-  ఆకారంలో  లు ఎన్ని ఉన్నాయి?

9. కింది వాటిని జతపర్చండి.

- | | |
|------------------------------|------------|
| 1. 365 లో 3 యొక్క స్థానం () | ఎ. వేలు |
| 2. 108 లో 8 యొక్క స్థానం () | బి. పదులు |
| 3. 198 లో 9 యొక్క స్థానం () | సి. వందలు |
| | డి. ఒకట్లు |